

Tarnobrzeg 10.05.2021 r.




KOD ucznia


III HETMAŃSKI KONKURS NAUK SPOŁECZNYCH Etap finałowy 2021


Instrukcja dla uczestnika:

- Sprawdź kompletność arkusza i jakość wydruku. Arkusz zawiera 7 stron. Wszelkie nieprawidłowości zgłoś komisji konkursowej. Komisja zdecyduje o ewentualnej wymianie arkusza.
- W miejscu przeznaczonym na kod uczestnika, wpisz numer kodu, który ustali CI Komisja Szkolna, znajdziesz go na karteczce z Twoim nazwiskiem. **W żadnym miejscu na teście nie umieszczaj swojego imienia i nazwiska!!!**
- Wykonuj dokładnie polecenia podane do każdego zadania. **Pamiętaj, iż w zadaniach znajduje się różna ilość poprawnych lub nie poprawnych odpowiedzi.** **(Test wielokrotnego wyboru)**
- W zadaniach otwartych wpisuj odpowiedzi **drukowanymi literami.**
- Odpowiedzi błędne przekreśl a przy poprawionej odpowiedzi napisz słowo „poprawna”
- Na napisanie testu masz 45 minut, czas egzaminu rozpocznie się po zakończeniu czynności organizacyjnych i zostanie zapisany na tablicy.
- Test wypełniaj czarnym lub niebieskim długopisem.
- Przed zakończeniem pracy, sprawdź kodowanie testu, podnieś rękę i czekaj, aż członek komisji egzaminacyjnej odbierze od Ciebie pracę i pozwoli Ci opuścić salę.
- Brak wykonania zasad zapisanych w instrukcji może być podstawą do dyskwalifikacji uczestnika zawodów przez Komisję Szkolną HKNS.

Nr	Treść zadania	Odpowiedzi ucznia	Przyznane punkty
ZADANIA BLOKU STAŁEGO			
1	<p>Jednym z najstarszych konfliktów jaki się toczy po rozpadzie ZSRR jest konflikt o Górski Karabach, który odżył na początku tego roku. Napisz , które dwa zdania są prawdziwe na jego temat: (2p.)</p> <p>a) walki toczą się w nim o azerską enklawę na terenie Armenii, b) walki toczą się w nim o ormiańską enklawę na terenie Azerbejdżanu, c) w walkach w tym roku zwyciężyli Azerowie, d) Górski Karabach jest uznanym państwem przez społeczność międzynarodową</p>		
2	<p>Abchazja i Adżaria to separatystyczne części terytorium jakiego państwa: (2p.)</p> <p>a) Czeczenii b) Gruzji c) Dagestanu d) Ukrainy</p>		
3	<p>Wpisz nazwę zjawiska zdefiniowanego poniżej: (1p.) <i>Jego działacze przeciwstawiają się współczesnej neoliberalnej postaci globalizacji, postulują zwiększenie przejrzystości i demokratyzmu funkcjonowania organizacji międzynarodowych i państw oraz wzmocnienia nadzoru nad korporacjami. Nie są jednak przeciwni samym procesom globalizacji.</i></p>	<p>.....</p>	
4	<p>Wpisz odpowiedzi do pytań odnoszących się do logo organizacji zamieszonej poniżej: (6p.)</p>  <p>a) Podaj pełną nazwę tej organizacji.</p>	<p>a)</p> <p>.....</p>	

	<p>b) Podaj datę dzienną przyjęcia Polski do tej organizacji.</p> <p>c) Wymień nazwy państw, które z Polską przystąpiły do tej organizacji.</p> <p>d) Podaj nazwę miasta, gdzie znajduje się siedziba główna tej organizacji, przed którą stoi pomnik – logo tej organizacji zamieszczony na zdjęciu.</p> <p>e) Napisz co mówi V Artykuł Traktatu założycielskiego tej organizacji.</p>	<p>b)</p> <p>c)</p> <p>d)</p> <p>e)</p>	
5	<p>Odpowiedz na pytania postawione poniżej. UE w ramach walki z kryzysem wywołanym pandemią koronawirusa przyjęła wieloletni plan pod nazwą „Fundusz Odbudowy” (7p.)</p> <p>a) Jaką nazwę nosi przyjęty w Polsce przez rząd nasz program walki z skutkami pandemii, będący częścią planu unijnego?</p> <p>b) Ile wynosi w złotych przewidziana dla Polski kwota w ramach tego programu. (około)</p> <p>c) Która partia z koalicji rządzącej powiedziała, iż nie zagłosuje w Sejmie za przyjęciem tego planu i tak zrobiła. Podaj jej nazwę oraz imię i nazwisko aktualnego szefa. Jaką funkcję w rządzie obecnie on pełni.</p> <p>d) Napisz główny powód sprzeciwu tej partii wobec przyjęcia tego planu.</p>	<p>a)</p> <p>b)</p> <p>c)</p> <p>d)</p>	

6	<p>Zapisz poprawną odpowiedź w trzech poniższych zadaniach testowych: (3p.)</p> <p>Aspirowanie do pewnej grupy społecznej, kiedy jednostka jeszcze nie jest jej członkiem to rodzaj socjalizacji nazywany:</p> <ul style="list-style-type: none"> a) odwrotną b) dewiacyjną c) kontrolną d) antycypującą <p>Jest to zjawisko zwykle rozumiane jako <i>niepodejmowanie zwyczajowej i społecznie akceptowanej drogi życiowej lub odchodzenie od takiego sposobu życia, przyczyniające się do braku możliwości pełnego uczestniczenia w życiu społecznym. Zjawisko to nazywamy:</i></p> <ul style="list-style-type: none"> a) anomią społeczną, b) wykluczeniem społecznym c) kategorią społeczną d) zmianą społeczną <p>Jest to proces <i>polegający na dążeniu do powrotu do kultury rodzimej i przywrócenia najważniejszych elementów własnej tożsamości.</i> Proces ten to:</p> <ul style="list-style-type: none"> a) natywizacja b) ksenofobia c) kosmopolityzm d) asymilacja 	<p>.....</p> <p>.....</p> <p>.....</p>	
7	<p>Podkreśl poprawną odpowiedź (1p.)</p> <p>Przyjętą główną zasadą nabycia obywatelstwa w Polsce jest zasada:</p> <ul style="list-style-type: none"> a) ius sanguinis, b) ius soli c) naturalizacji d) hybrydowa 		
8	<p>Odpowiedz na pytania zamieszczone pod poniższym rysunkiem: (2p.)</p>  <p>a) Gdzie ma siedzibę Trybunał wspomniany w powyższej grafice?</p>	<p>a)</p> <p>.....</p>	

	<p>b) Do której generacji praw zaliczamy naruszone w sytuacji na obrazku tzw. <i>prawo do prywatności i rodziny</i>.</p>	<p>b)</p> <p>.....</p>	
9.	<p>Odpowiedz na poniższe pytanie (1p.) Jeśli chciałbyś porównać bogactwo statystycznego Polaka i Hiszpana to potrzebowałbyś do tego następującego wskaźnika makroekonomicznego:</p> <p>a) PNB obydwu państw b) PKB per capita obydwu państw c) Inflacji realnej obydwu państw d) PKB nominalnego obydwu państw</p>	<p>.....</p>	
BLOK ZMIENNY			
10.	<p>a) Napisz nazwę uroczystego wstępu do Konstytucji RP odnoszącego się do historii narodu i preferowanych wartości. (1p.)</p> <p>B) Artykuł 4 naszej Konstytucji stwierdza, że <i>władza zwierzchnia w Rzeczypospolitej Polskiej należy do Narodu</i>. Z tego wynika, że do Narodu zalicza się: (1p.)</p> <p>a) osoby posiadające narodowość polską, b) osoby posiadające obywatelstwo polskie, c) osoby mieszkające aktualnie w Polsce, d) wszystkich, którzy czują aktualnie związek z państwem polskim, e) wszystkich, którzy posiadają lub kiedykolwiek posiadali obywatelstwo polskie</p> <p>Podaj poprawną odpowiedź</p>	<p>a)</p> <p>b)</p>	
11.	<p>Odpowiedz na pytania do poniższej ilustracji: (4p.)</p>  <p>A) Podaj imię i nazwisko polityka z powyższej fotografii.</p> <p>B) Jaki urząd pełni obecnie, podaj jego nazwę</p> <p>C) Czy może on wystąpić do Sejmu z projektem ustawy budżetowej. Odpowiedz uzasadnij</p>	<p>.....</p> <p>.....</p> <p>.....</p> <p>.....</p> <p>.....</p> <p>.....</p>	

		
12.	<p>Uzupełnij luki w poniższych zdaniach tak aby one były zgodne z rozwiązaniami przyjętymi w Konstytucji RP: (4p.)</p> <p>a) wyłączone prawo wystąpienia do Sejmu o udzielenie absolutorium budżetowego posiada -</p> <p>b) Sejm na udzielenie takiego absolutorium posiada czas (ilu) miesięcy.</p> <p>c) Vacatio legis, jeśli ustawa nie mówi inaczej, standardowo w Polsce wynosi (ile) dni</p> <p>d) Prezydent RP podpisuje ustawę a następnie ją aby mogła wejść w życie.</p>	<p>a)</p> <p>b)</p> <p>c)</p> <p>d)</p>	
13	<p>Która odpowiedź jest prawidłowa: (1p.)</p> <p>Stan klęski żywiołowej wprowadza:</p> <p>a) Prezydent RP na wniosek Rady Ministrów</p> <p>b) Sejm RP</p> <p>c) Rada Ministrów RP</p>	
14	<p>Wpisz właściwe nazwy systemów politycznych scharakteryzowanych w punktach a, b, c. (4p.)</p> <p>a) W systemie tym głowa państwa pełni funkcje reprezentacyjne. Powołuje premiera a na jego wniosek ministrów. Posiada inicjatywę ustawodawczą i prawo weta wobec ustaw. Rząd odpowiada politycznie przed parlamentem.</p> <p>b) W systemie tym nie ma premiera a ministrowie podlegają i są w pełni odpowiedzialni przed głową państwa, która nie ma prawa inicjatywy ustawodawczej.</p> <p>c) W systemie tym nie występuje trójpodział władzy. Dominuje w nim parlament, któremu podporządkowane są pozostałe organy państwowe</p> <p>d) Podaj nazwę państwa w Europie, w którym występuje system scharakteryzowany w punkcie c.</p>	<p>a)</p> <p>b)</p> <p>c)</p> <p>d)</p>	

15	<p>Zaznacz poprawną odpowiedź: Wg brytyjskiego tygodnika „The Economist”, który tworzy <i>Democracy Index</i> Polska należy do państw : (1p.)</p> <p>a) w pełni demokratycznych b) o wadliwej demokracji c) o systemach hybrydowych d) reżimów autorytarnych</p>	<p>.....</p>																											
16	<p>Odpowiedz na pytania zadane poniżej a dotyczące referendum w Polsce Tak lub Nie (3p.)</p> <p>a) Aby referendum ogólnokrajowe było ważne musi wziąć udział w nim co najmniej 50 % plus 1 uprawnionych do głosowania ?</p> <p>b) Aby referendum odwołujące burmistrza gminy było ważne, musi wziąć udział w nim co najmniej 30 % uprawnionych do głosowania mieszkańców gminy?</p> <p>c) Możliwość odwołania burmistrza i rady miasta przez mieszkańców to instytucja podobna w skutkach jak tzw. recall</p>	<p>a)</p> <p>b)</p> <p>c)</p>																											
17	<p>Uzupełnij poniższą tabelkę wg wzoru: (3p.)</p> <table border="1" data-bbox="260 1099 1217 1413"> <thead> <tr> <th>Państwo</th> <th>Forma państwa</th> <th>Reżim</th> <th>Ustrój</th> <th>Ustrój terytorialny</th> </tr> </thead> <tbody> <tr> <td>Polska</td> <td>republika</td> <td>demokracja</td> <td>Parlamentarno – gabinetowy</td> <td>unitarny</td> </tr> <tr> <td>Rosja</td> <td></td> <td></td> <td></td> <td></td> </tr> <tr> <td>Niemcy</td> <td></td> <td></td> <td></td> <td></td> </tr> <tr> <td>Belgia</td> <td></td> <td></td> <td></td> <td></td> </tr> </tbody> </table>				Państwo	Forma państwa	Reżim	Ustrój	Ustrój terytorialny	Polska	republika	demokracja	Parlamentarno – gabinetowy	unitarny	Rosja					Niemcy					Belgia				
Państwo	Forma państwa	Reżim	Ustrój	Ustrój terytorialny																									
Polska	republika	demokracja	Parlamentarno – gabinetowy	unitarny																									
Rosja																													
Niemcy																													
Belgia																													
18	<p>Odpowiedz na pytania: (2p.)</p> <p>a) Kto w Polsce ustala stopę referencyjną, od której zależy koszt kredytów w bankach komercyjnych. Podaj nazwę organu wchodzącego w skład organu konstytucyjnego, który to robi.</p> <p>b) Wielkość tej stopy w ostatnim miesiącu została utrzymana czy podwyższona?</p>	<p>a)</p> <p>b)</p>																											
19	<p>Oblicz wartość dywidendy dla inwestora na podstawie poniższych danych: (1p.) Posiada on 100 akcji Firma wyemitowała 10 000 akcji Zarząd przeznaczył cały ubiegłoroczny zysk firmy na wypłatę dywidendy a wynosił on 10 tysięcy złotych.</p>	<p>.....</p> <p>.....</p> <p>.....</p> <p>.....</p>																											

